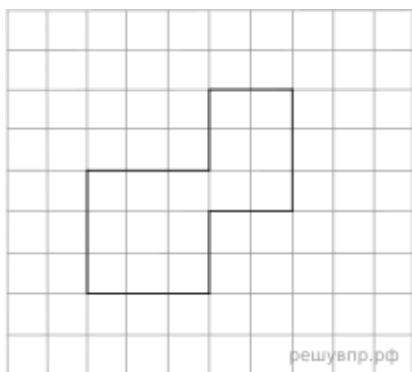


1. Найди значение выражения  $90 - 53$ .
2. Найди значение выражения  $18 - 8 : (21 - 19)$ .
3. На садовом рынке продаются саженцы деревьев и кустарников (см. рисунок).



Сколько всего рублей надо заплатить за три куста крыжовника и одну вишню? Запиши решение и ответ.

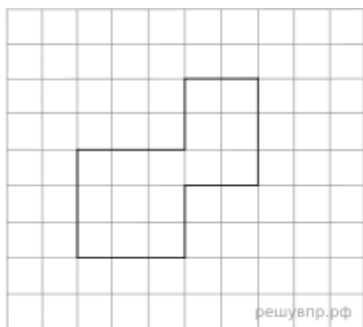
4. Фильм в кинотеатре начался в 16 часов 50 минут и длился 1 час 40 минут. В какое время закончился фильм?



5. На клетчатой бумаге нарисована фигура. Сторона клетки равна 1 см.

Найди периметр этой фигуры. Ответ дай в сантиметрах.

*В ответе писать единицы измерения не нужно.*



6. На клетчатой бумаге нарисована фигура. Сторона клетки равна 1 см.

Нарисуй по клеточкам квадрат, периметр которого равен периметру этой фигуры.

7. Марина в течение четырёх дней собирала грибы и каждый день записывала количество найденных грибов в таблицу. Используя данные этой таблицы, ответь на вопросы.

Дни по порядку	Подберёзовики	Подосиновки	Белые
Первый день	9	6	2
Второй день	3	3	7
Третий день	1	2	8
Четвёртый день	2	3	3

Сколько подберёзовиков собрала Марина во второй день?

8. Марина в течение четырёх дней собирала грибы и каждый день записывала количество найденных грибов в таблицу. Используя данные этой таблицы, ответь на вопросы.

Дни по порядку	Подберёзовку	Подосиновки	Белые
Первый день	9	6	2
Второй день	3	3	7
Третий день	1	2	8
Четвёртый день	2	3	3

Каких грибов собрала Марина больше всего в третий день?

9. Найди значение выражения:  $2254 - 903 : 43 + 207$ .

10. Железнодорожный состав перевозит 1230 т щебня. В составе 5 новых вагонов, в каждом из которых 70 т щебня, остальные вагоны — старые, в них по 55 т щебня. Сколько в составе старых вагонов? Запиши решение и ответ.

11. Ксюша собирала пазлы. Первый пазл, который она собрала, состоял из 400 деталей, а в каждом следующем пазле было на 100 деталей больше, чем в предыдущем. Всего Ксюша собрала шесть пазлов.

Сколько деталей было в пятом пазле, собранном Ксюшей?

12. Ксюша собирала пазлы. Первый пазл, который она собрала, состоял из 400 деталей, а в каждом следующем пазле было на 100 деталей больше, чем в предыдущем. Всего Ксюша собрала шесть пазлов.

Сколько всего деталей установила Ксюша, правильно собрав все шесть пазлов?

13. Данила написал сочинение о торговом центре около его дома и нарисовал план торгового центра.

*Около нашего дома недавно открылся новый торговый центр. Он небольшой, но очень удобный. В нём есть всё самое необходимое. Если войти в него с улицы, то сразу справа находится магазин «Продукты». Слева от входа находится терминал, в котором мама обычно пополняет себе и мне транспортные карты.*

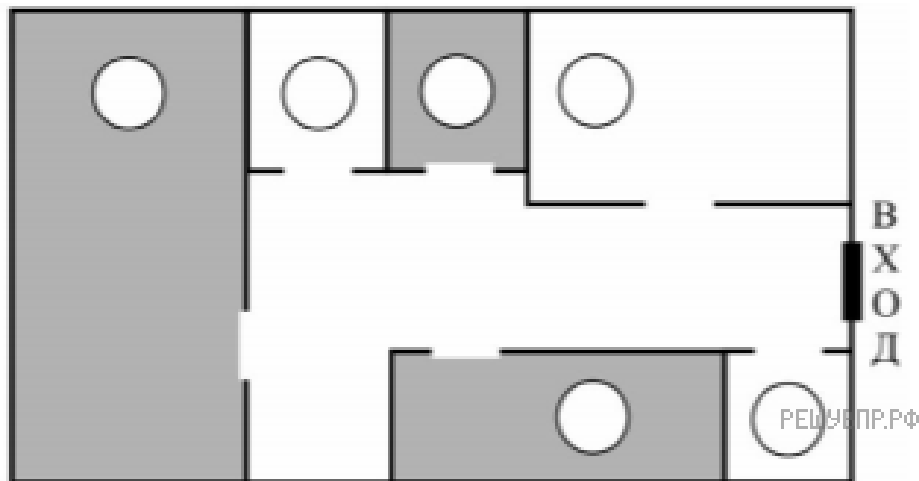
*Рядом с терминалом расположен магазин «Зоотовары». Раз в неделю, по выходным, папа покупает в нём большую упаковку корма для нашей собаки Дуси и мячики, с которыми она любит гулять, но часто теряет их.*

*Самое большое помещение в торговом центре занимает магазин «Спорттовары». Он такой большой, потому что, кроме спортивной одежды и обуви, там есть роликовые коньки, лыжи и даже велосипеды с самокатами. Год назад мне родители купили здесь новый самокат.*

*Между спортивным магазином и продуктовым находятся два небольших отдела. Это аптека и магазин «Всё для рукоделия». Аптека расположена ближе к продуктивному магазину, а товары для рукоделия — ближе к спортивным товарам. Моя старшая сестра увлекается вязанием и часто заходит сюда за спицами и пряжей.*

Рассмотри план торгового центра. Пользуясь описанием, которое дал Данила,

отметь на плане цифрами шесть объектов.



1. Терминал.
2. Магазин «Продукты».
3. Аптека.
4. Магазин «Зоотовары».
5. Магазин «Спорттовары».
6. Магазин «Всё для рукоделия».



Рис. 1

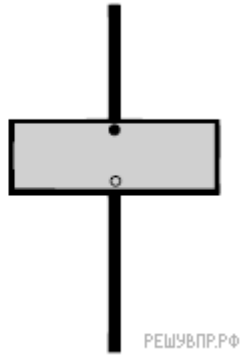


Рис. 2

**14.** На столбе висела табличка (рис. 1). Верхний винт, державший табличку, выпал, и табличка перевернулась. Нарисуй, как будет выглядеть перевернутая табличка с надписью (рис. 2).

**15.** У Васи в кармане лежит 16 монет, среди которых есть монеты достоинством 1 рубль, 2 рубля и 5 рублей. При этом общая сумма денег, находящихся в кармане у Васи, составляет 56 рублей. Какое наименьшее число монет достоинством 5 рублей может быть у Васи?